



COLEGIO KENNEDY I. E. D.
PRUEBA DE SUFICIENCIA
2020


NOMBRE DEL ESTUDIANTE							
ASIGNATURA		Informática	TEMA				
DOCENTE							
FECHA		PERIODO		CURSO(S)	TERCERO	CICLO	II

1. La evolución de la herramienta tecnológica más importante de esta época ha sido necesariamente cambiada por las necesidades de la humanidad en cuanto a actividades y tareas. Podríamos decir que el cambio más frecuente y más importante del computador es:

- a. No ha cambiado en los últimos años
- b. El tamaño y accesibilidad a las personas
- c. El cable para cargar su batería
- d. El acceso a internet y las aplicaciones

2. Dos partes del computador son:

- a. Pantalla y teclado
- b. Pantalla y control
- c. CPU y mesa
- d. Aplicaciones y mouse

2. El nombre del ícono  que nos permite hacer búsquedas es

- a) firefox
- b) explorer
- c) google
- d) Paint





3. Este  ícono corresponde al programa

- a) Paint
- b) Word
- c) Google
- d) Internet

4. En Paint podemos:


- a) jugar en diferentes aplicaciones
- b) escribir cartas y cuentos
- c) realizar diferentes tipos de dibujos
- d) colorear figuras

5. Para borrar las imágenes que ícono usamos:

- a) 
- b) 
- c) 
- d) 





6. Este ícono  permite

- a) Dibujar libremente
- b) Hacer círculos
- c) Realizar círculos
- d) Hacer cuadrados





7. Con éste ícono  podemos:

- a) Dibujar
- b) Insertar imágenes
- c) Colorear los dibujos
- d) Eliminar dibujos

8. Para agregar texto en Paint empleamos:

- a) 
- b) 
- c) 
- d) 

9) Microsoft Word es un programa que permite realizar cualquier tipo de texto para acceder a este programa se debe dar clic en:

- a) 
- b) 
- c) 
- d) 

10. la siguiente imagen hace referencia a:



- a) Historia de la tecnología
- b) Evolución de los medios de comunicación
- c) Línea de tiempo de la evolución del televisor

d) Línea de tiempo de las herramientas tecnológicas

11. De acuerdo a la imagen anterior se puede afirmar que:

a) A través del tiempo el hombre mejora su calidad de vida

b) Las personas compran cada día mejores cosas

c) La tecnología domina al hombre

c) A través del tiempo el hombre cambia y con él los aparatos tecnológicos.

12. Durante esta pandemia en la cual la vida diaria ha cambiado por completo la tecnología ha permitido:

a) Estar más entretenidos

b) Mantenerse comunicado, poder trabajar y estudiar aun en la distancia

c) Mejorar la comunicación

d) Conocer más amigos.

13. La vida del hombre va cambiando, al igual que los aparatos tecnológicos esto permite:

a) continuar mejorando la calidad de vida de las personas facilitando el acceso de todos a la tecnología y la comunicación.

b) estancarse y no evolucionar en el uso de la tecnología

c) Crear otros medios de comunicación

d) Cambiar y mejorar cada día.